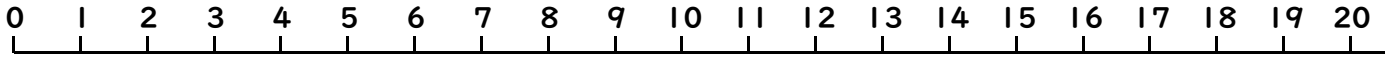


10より おおきい かず4

(かずの せん)

ねん くみ なまえ()



うえにある かずのせんを みて こたえましょう。

●おおきい ほうに ○を つけましょう。

(1)

19

(2)

15

(3)

12

20

13

3

(4)

12

(5)

11

(6)

2

7

13

7

●しかくに すうじを かきましょう。


(1)



(2)



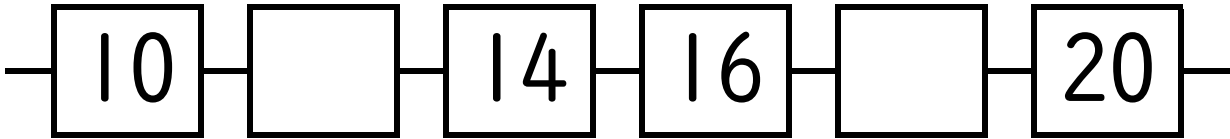
(3)



(4)



(5)



●つぎの かずは いくつですか。

(1) 12より 5 おおきい かず ()

(2) 18より 5 ちいさい かず ()

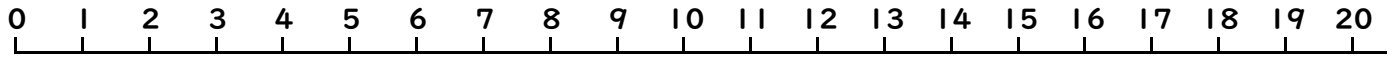
(3) 11より 8 おおきい かず ()

(4) 13より 2 ちいさい かず ()

10より おおきい かず4

(かずのせん)

ねん くみ なまえ()



うえにある かずのせんをみて きたえましょう。

●おおきい ほうに ○を つけましょう。

(1) 19 15 (2) 12 20 (3) 13 3
(4) 12 11 (5) 2 7 (6) 13 7

●しかくに すうじを かきましょう。

(1) 17 18 19 (2) 13 14 15
(3) 12 11 10 (4) 20 19 18
(5) 10 12 14 16 18 20

●つぎの かずは いくつですか。

(1) 12より 5 おおきい かず (17)
(2) 18より 5 ちいさい かず (13)
(3) 11より 8 おおきい かず (19)
(4) 13より 2 ちいさい かず (11)