

# いくつといくつ3

(10をつくろう)

ねん くみ なまえ( )

2つの かずで 10を つくります。たて、よこ、ななめで  
みつけて、せんで かこみましょう。

(1)

9	6	3	5	9
4	2	5	6	1
7	8	1	7	3
8	4	9	6	1
5	5	3	4	2

(2)

8	9	7	5	1
6	2	3	1	8
4	2	3	9	4
8	4	5	6	3
1	9	5	3	8

(3)

7	4	1	8	2
3	8	4	6	6
5	9	8	7	9
8	1	4	5	3
2	1	9	5	6

(4)

2	1	8	5	3
4	9	3	4	5
5	5	6	1	8
6	2	8	3	2
8	7	3	1	9


# いくつといくつ3

(10をつくらう)


ねん くみ なまえ( )

2つの かずで 10を つくりまます。たて、よこ、ななめで みつけて、せんで かこみましょう。


(1)



(2)



(3)



(4)

