

ぼうグラフと表

(棒グラフ)

年 組 名前()

次の表を、グラフに表しましょう。

(1) すきなアイスの味と人数

しゅるい	人数(人)
チョコ	11
バニラ	9
いちご	6
メロン	4
合計	30

(2) すきな飲み物と人数

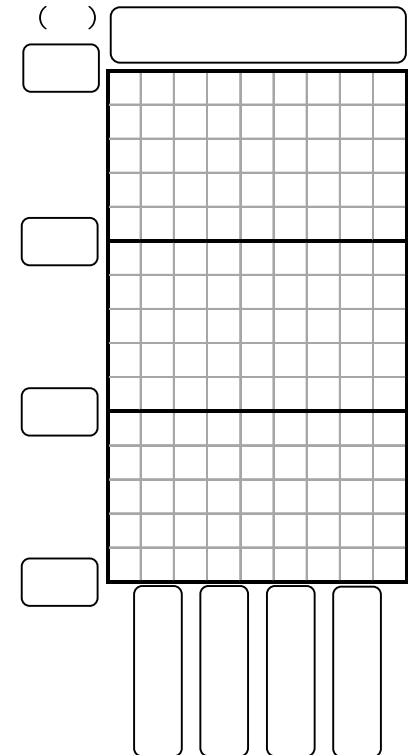
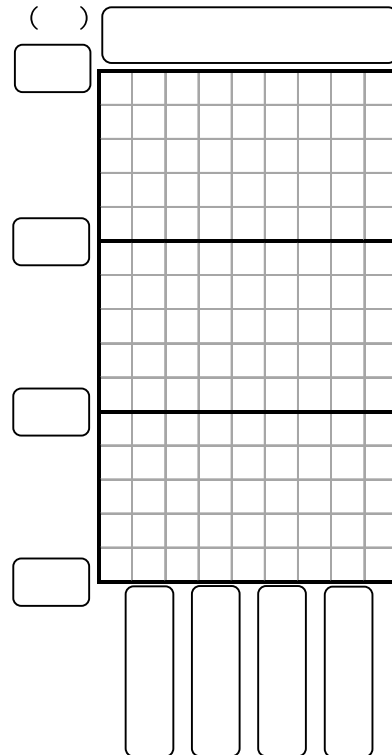
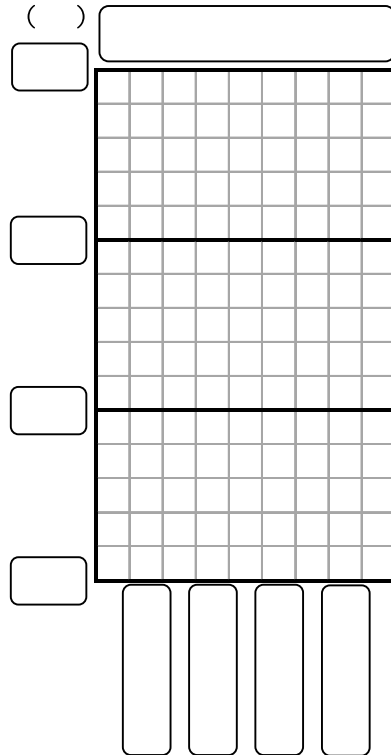
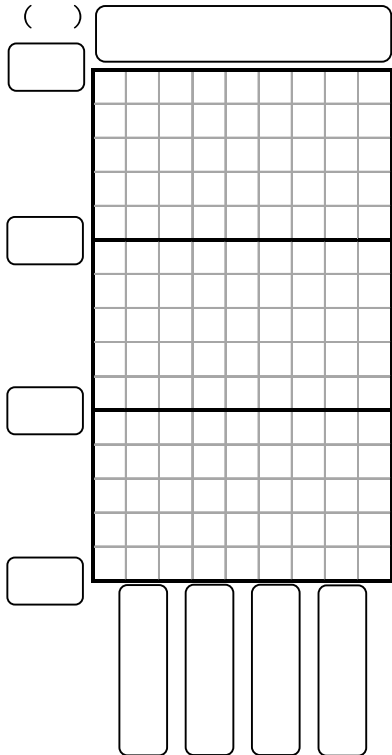
しゅるい	人数(人)
牛にゅう	10
お茶	9
ジュース	7
ココア	4
合計	30

(3) すきなパンと人数

しゅるい	人数(人)
食パン	11
アンパン	10
メロンパン	8
カレーパン	1
合計	30

(4) すきな動物と人数

しゅるい	人数(人)
ゾウ	14
クマ	7
ゴリラ	6
カバ	3
合計	30



ぼうグラフと表

(棒グラフ)

次の表を、グラフに表しましょう。

(1) すきなアイスの味と人数

しゅるい	人数(人)
チョコ	11
バニラ	9
いちご	6
メロン	4
合計	30

(2) すきな飲み物と人数

しゅるい	人数(人)
牛にゅう	10
お茶	9
ジュース	7
ココア	4
合計	30

(3) すきなパンと人数

しゅるい	人数(人)
食パン	11
アンパン	10
メロンパン	8
カレーパン	1
合計	30

(4) すきな動物と人数

しゅるい	人数(人)
ゾウ	14
クマ	7
ゴリラ	6
カバ	3
合計	30

