

ぼうグラフと表2

(棒グラフ)

年 組 名前()

次の表を、グラフに表しましょう。

(1) すきなアイスの味と人数

しゅるい	人数(人)
チョコ	10
バニラ	9
いちご	8
メロン	3
合計	30

(2) すきな飲み物と人数

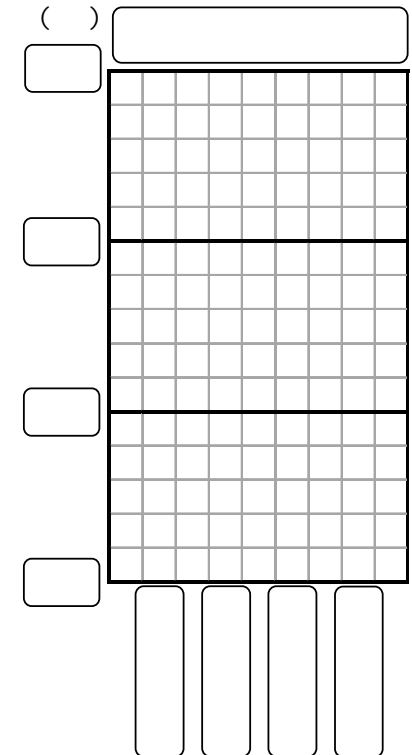
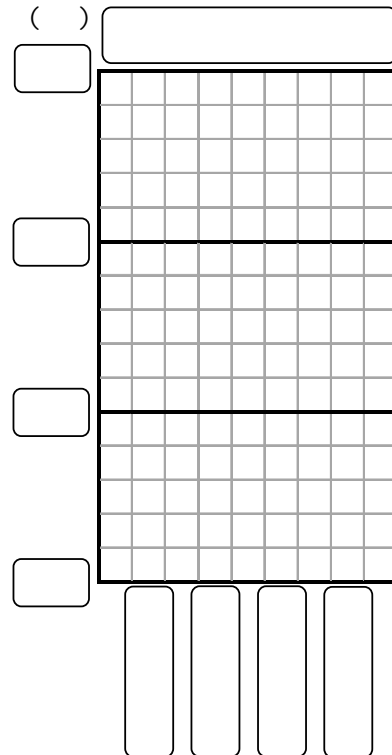
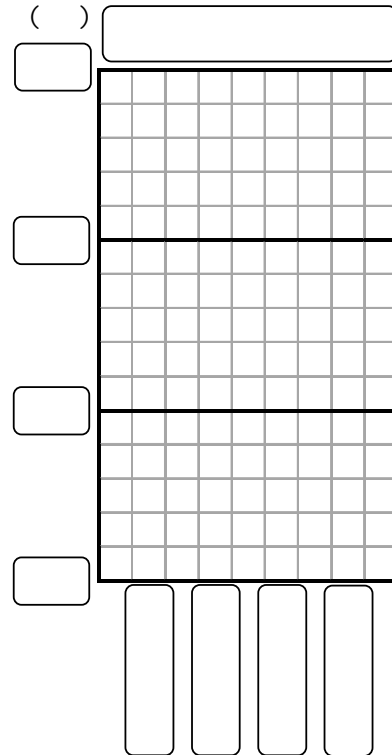
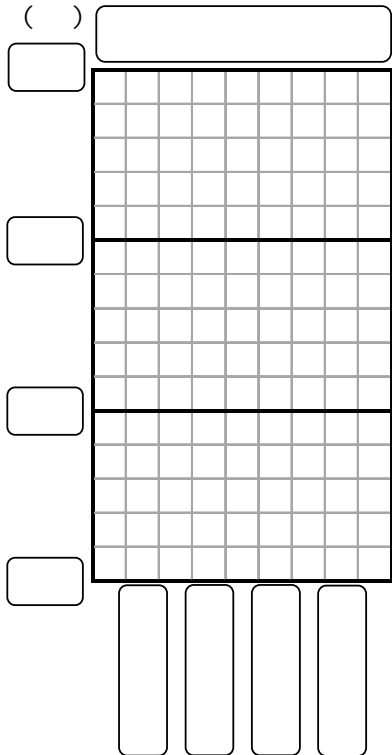
しゅるい	人数(人)
牛にゅう	12
お茶	11
ジュース	4
ココア	3
合計	30

(3) すきなパンと人数

しゅるい	人数(人)
食パン	13
アンパン	10
メロンパン	5
カレーパン	2
合計	30

(4) すきな動物と人数

しゅるい	人数(人)
ゾウ	10
クマ	9
ゴリラ	6
カバ	5
合計	30



ぼうグラフと表2

(棒グラフ)

年 組 名前()

次の表を、グラフに表しましょう。

(1) すきなアイスの味と人数

しゅるい	人数(人)
チョコ	10
バニラ	9
いちご	8
メロン	3
合計	30

(2) すきな飲み物と人数

しゅるい	人数(人)
牛にゆう	12
お茶	11
ジュース	4
ココア	3
合計	30

(3) すきなパンと人数

しゅるい	人数(人)
食パン	13
アンパン	10
メロンパン	5
カレーパン	2
合計	30

(4) すきな動物と人数

しゅるい	人数(人)
ゾウ	10
クマ	9
ゴリラ	6
カバ	5
合計	30

