

# ぼうグラフと表4

(棒グラフ)

年 組 名前( )

次の表を、グラフに表しましょう。

(1) すきな教科と人数

しゅるい	人数(人)
体育	12
図工	9
音楽	8
理科	1
合計	30

(2) すきな動物と人数

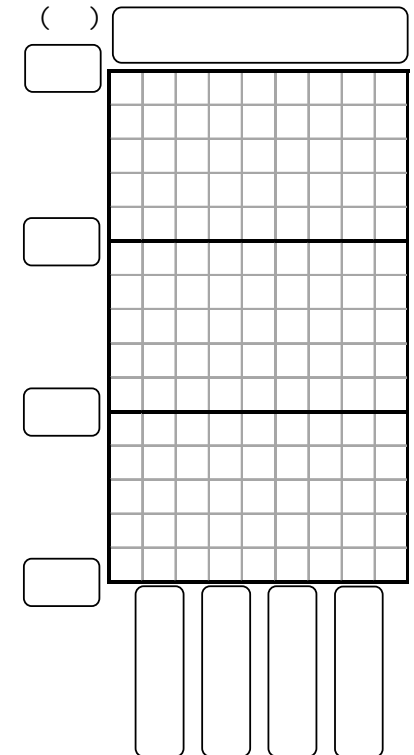
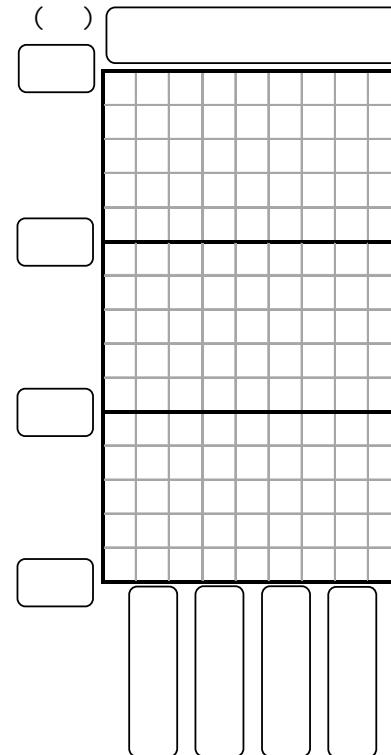
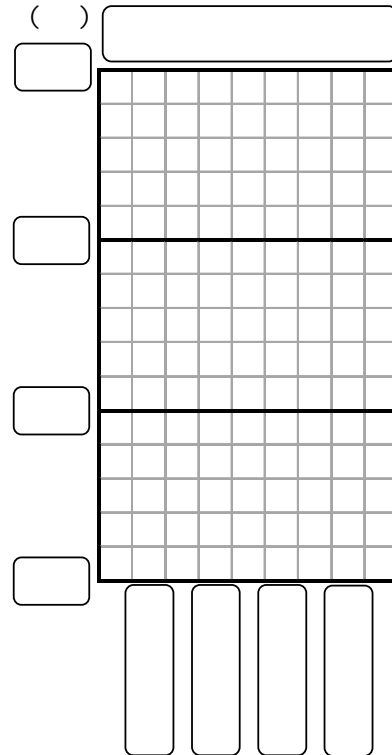
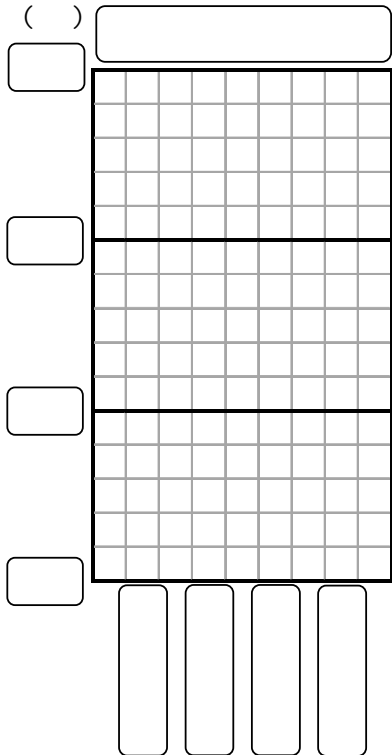
しゅるい	人数(人)
犬	13
ねこ	8
うさぎ	6
パンダ	3
合計	30

(3) すきな季節と人数

しゅるい	人数(人)
秋	13
春	11
夏	5
冬	1
合計	30

(4) すきな遊びと人数

しゅるい	人数(人)
おにごっこ	12
ボールあそび	10
トランプ	6
オセロ	2
合計	30



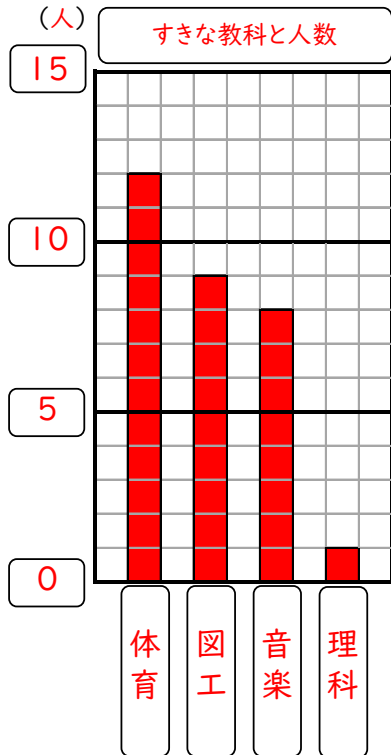
# ぼうグラフと表4

(棒グラフ)

次の表を、グラフに表しましょう。

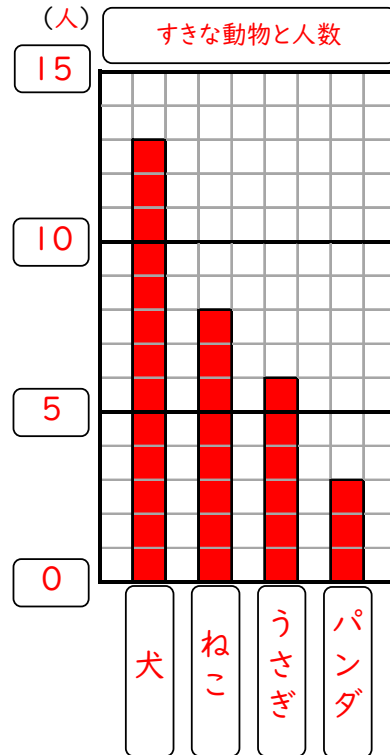
(1) すきな教科と人数

しゅるい	人数(人)
体育	12
図工	9
音楽	8
理科	1
合計	30



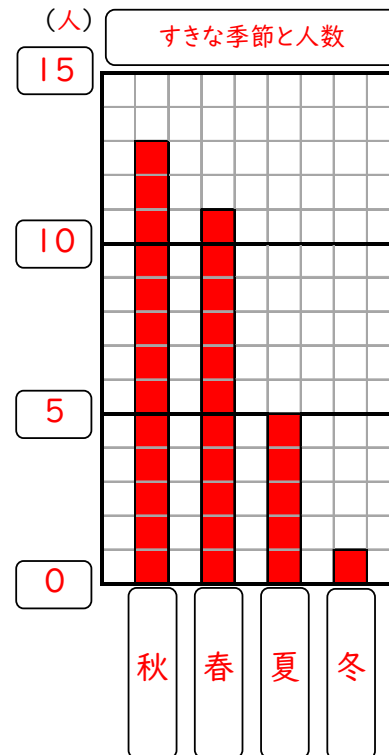
(2) すきな動物と人数

しゅるい	人数(人)
犬	13
ねこ	8
うさぎ	6
パンダ	3
合計	30



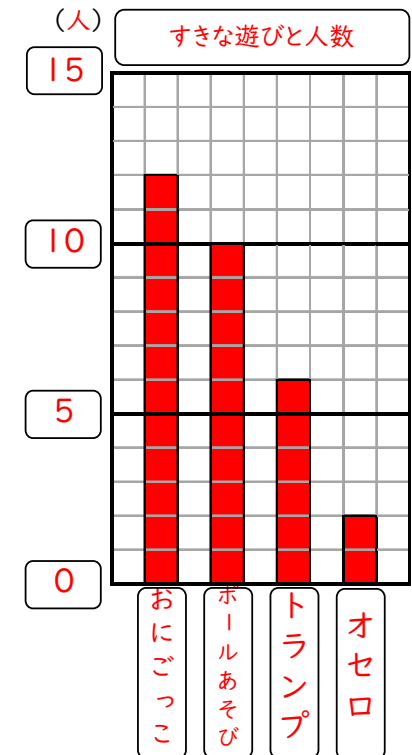
(3) すきな季節と人数

しゅるい	人数(人)
秋	13
春	11
夏	5
冬	1
合計	30



(4) すきな遊びと人数

しゅるい	人数(人)
おにごっこ	12
ボールあそび	10
トランプ	6
オセロ	2
合計	30



年 組 名前( )