

ぼうグラフと表5

(棒グラフ)

年 組 名前()

次の表を、グラフに表しましょう。

(1) すきな教科と人数

しゅるい	人数(人)
体育	12
図工	7
音楽	6
理科	5
合計	30

(2) すきな動物と人数

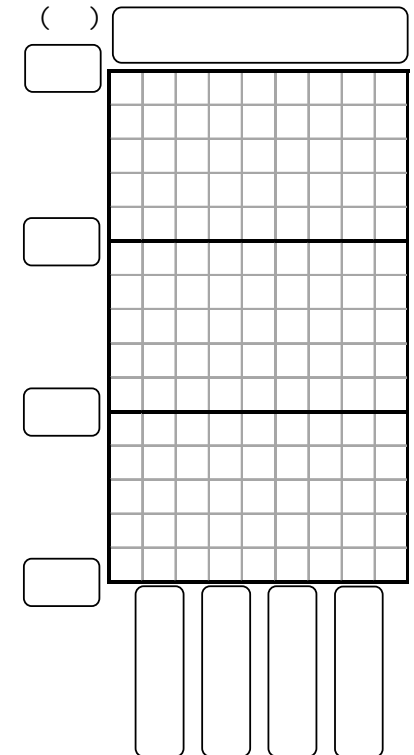
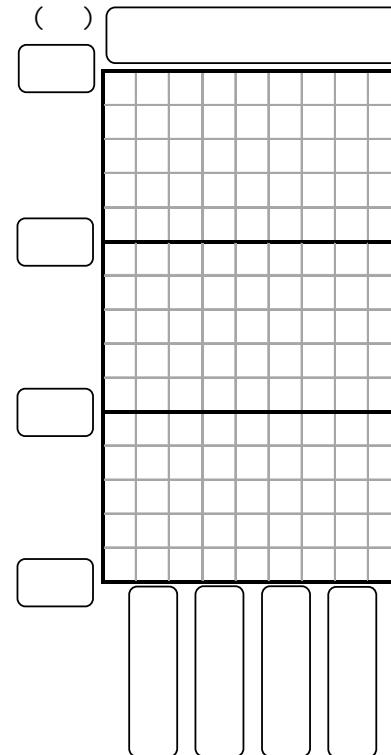
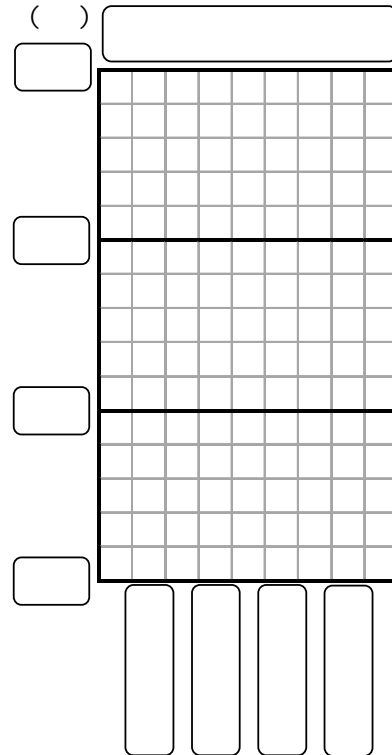
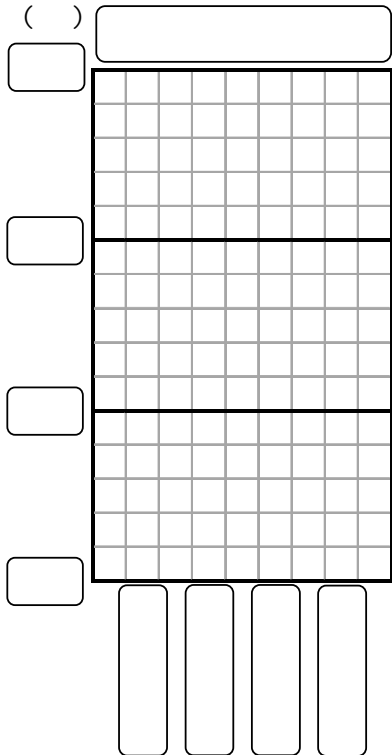
しゅるい	人数(人)
犬	11
ねこ	9
うさぎ	8
パンダ	2
合計	30

(3) すきな季節と人数

しゅるい	人数(人)
秋	10
春	9
夏	8
冬	3
合計	30

(4) すきな遊びと人数

しゅるい	人数(人)
おにごっこ	14
ボールあそび	9
トランプ	4
オセロ	3
合計	30



ぼうグラフと表5

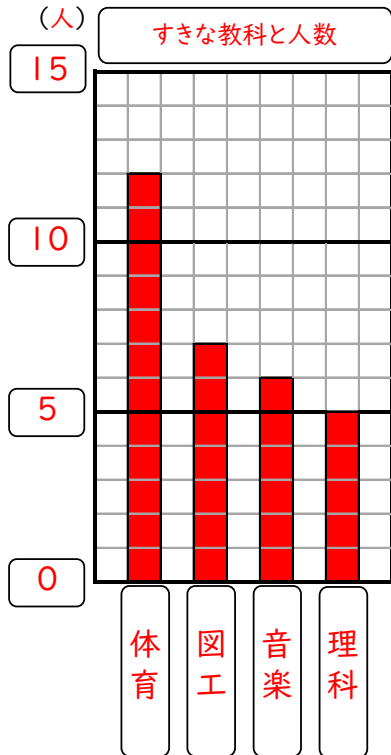
(棒グラフ)

次の表を、グラフに表しましょう。

(1)

すきな教科と人数

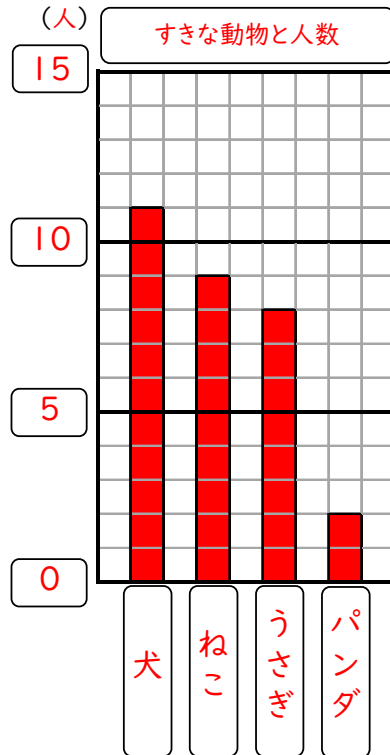
しゅるい	人数(人)
体育	12
図工	7
音楽	6
理科	5
合計	30



(2)

すきな動物と人数

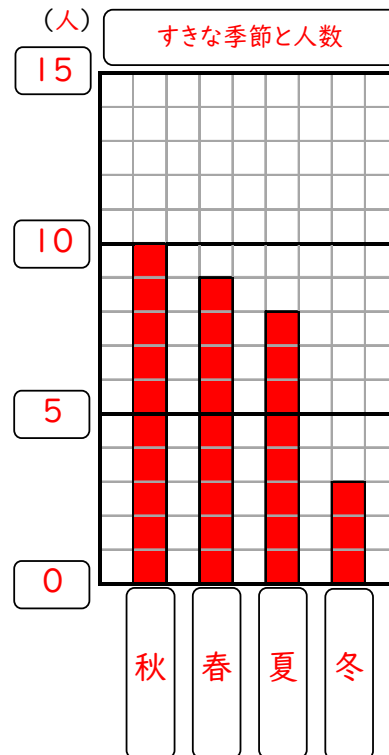
しゅるい	人数(人)
犬	11
ねこ	9
うさぎ	8
パンダ	2
合計	30



(3)

すきな季節と人数

しゅるい	人数(人)
秋	10
春	9
夏	8
冬	3
合計	30



(4)

すきな遊びと人数

しゅるい	人数(人)
おにごっこ	14
ボールあそび	9
トランプ	4
オセロ	3
合計	30

