

# 円グラフと帯グラフ3

(円グラフ・帯グラフの作成)

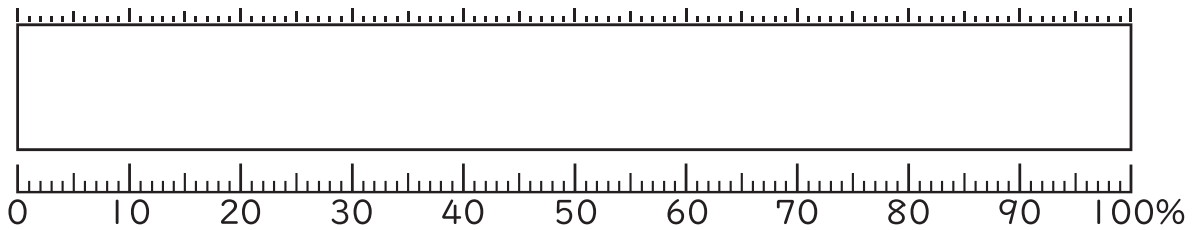
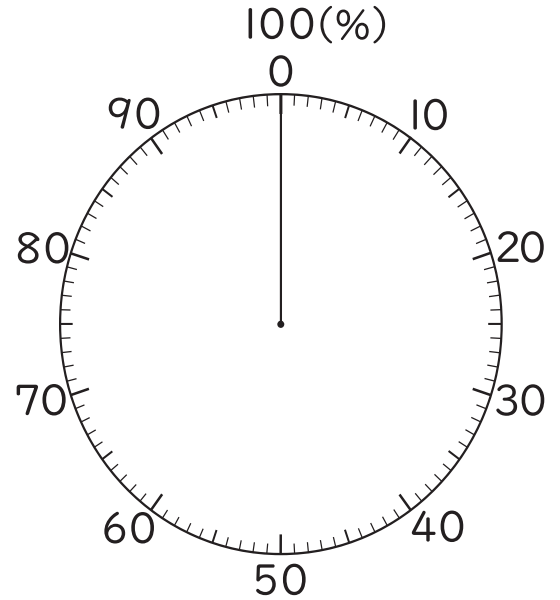
年 組 名前( )

それぞれの人数が全体の何%になるかを求めて、表に書きましょう。(小数第一位で四捨五入をし、合計が100%にならないときは、「その他」で調整をしましょう。) また、それぞれの表の割合を円グラフと帯グラフにかきましょう。

(1)

将来の夢

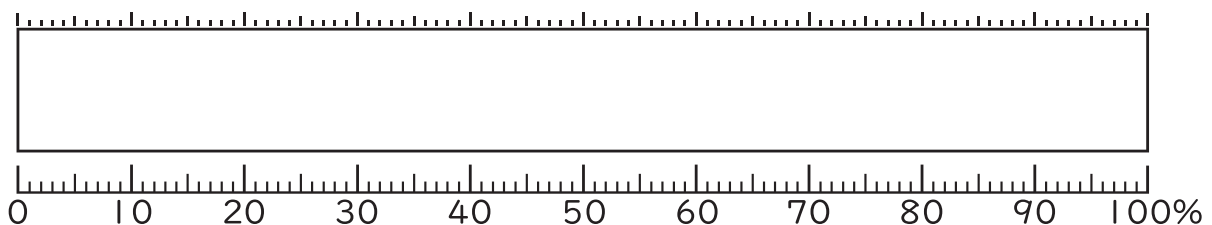
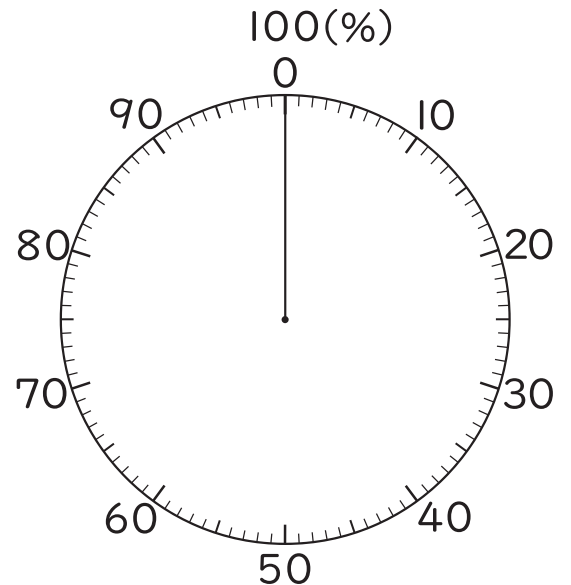
職業	人数(人)	百分率(%)
警察官	47	
スポーツ選手	43	
芸能人	30	
医者	18	
youtuber	15	
その他	27	
合計	180	



(2)

行ってみたい国

国名	人数(人)	百分率(%)
アメリカ	36	
フランス	21	
韓国	12	
オーストラリア	8	
イタリア	4	
その他	9	
合計	90	



# 円グラフと帯グラフ3

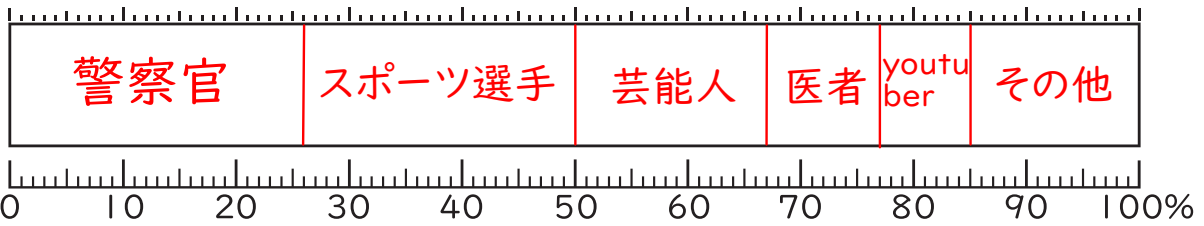
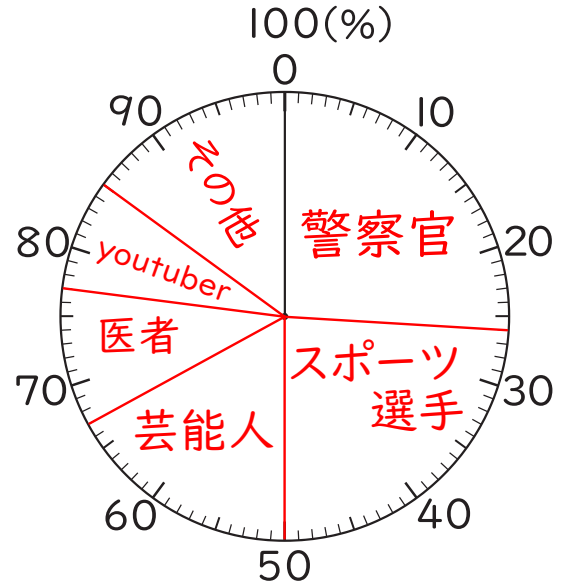
(円グラフ・帯グラフの作成)

年 組 名前( )

それぞれの人数が全体の何%になるかを求めて、表に書きましょう。(小数第一位で四捨五入をし、合計が100%にならないときは、「その他」で調整をしましょう。) また、それぞれの表の割合を円グラフと帯グラフにかきましょう。

将来の夢

職業	人数(人)	百分率(%)
警察官	47	26 (26.11)
スポーツ選手	43	24 (23.88)
芸能人	30	17 (16.66)
医者	18	10 (10)
youtuber	15	8 (8.33)
その他	27	15 (15)
合計	180	100



行ってみたい国

国名	人数(人)	百分率(%)
アメリカ	36	40 (40)
フランス	21	23 (23.33)
韓国	12	13 (13.33)
オーストラリア	8	9 (8.88)
イタリア	4	4 (4.44)
その他	9	11 (10)
合計	90	100

