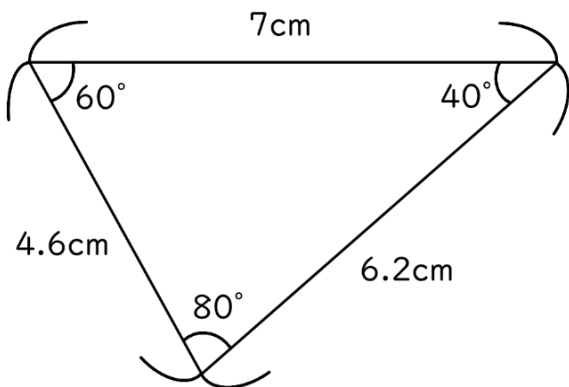
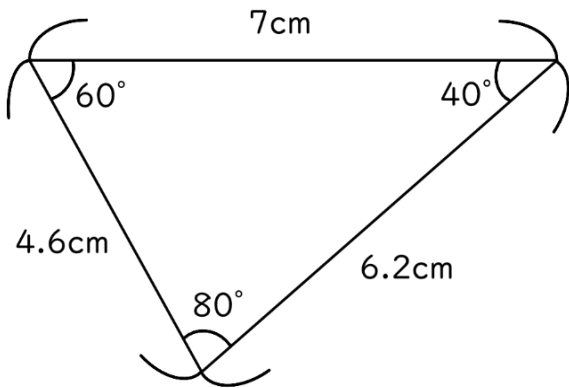
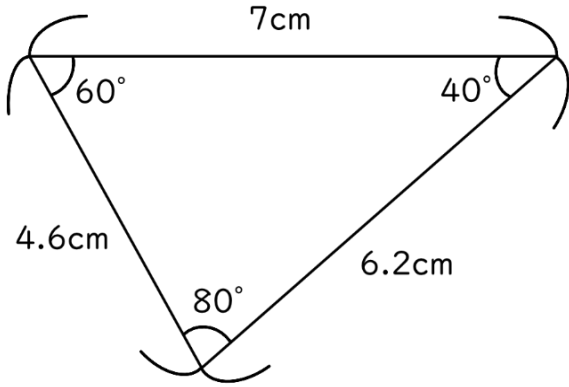


# 合同な図形6

(合同な三角形の作図)

年 組 名前 ( )

3通りのかき方で、下の三角形と合同な三角形をかきましょう。



# 合同な図形6

(合同な三角形の作図)

年 組 名前 ( )

3通りのかき方で、下の三角形と合同な三角形をかきましょう。

